

WOJEWÓDZKI KONKURS PRZEDMIOTOWY  
Z HISTORII  
DLA UCZNIÓW GIMNAZJÓW  
2016/2017

**TEST**  
**ELIMINACJE REJONOWE**

Numer identyfikacyjny

|  |
|--|
|  |
|--|

Wypełnia Rejonowa Komisja Konkursowa

Imiona i nazwisko

.....

Wypełnia Rejonowa Komisja Konkursowa

|                     | Razem |     |
|---------------------|-------|-----|
| Punkty do uzyskania | 80    | w % |
| Punkty uzyskane     |       |     |

Czas trwania testu: **90 minut** bez przerwy

.....

**INSTRUKCJA DLA UCZESTNIKÓW:**

Masz przed sobą test, który zawiera zadania otwarte i zamknięte. Pamiętaj! W pytaniach zamkniętych należy podkreślić prawidłową odpowiedź.

W sytuacji, gdy uznasz, że źle zaznaczyłaś/eś odpowiedź skreśl ją i podkreśl prawidłową. Może być tylko jedna poprawka w jednym zadaniu! Czytaj uważnie każde polecenie.

**POWODZENIA!**

**Zadanie 1 (0-3p.)**

Wymień trzy postanowienia *artykułów henrykowskich*.

A).....

.....

B) .....

.....

C) .....

.....

**Zadanie 2 (0-1p.)**

Napisz, dlaczego spis praw Rzeczypospolitej nazwano *artykułami henrykowskimi*?

.....

.....

.....

.....

**Zadanie 3 (0-2p.)**

Wyjaśnij pojęcia związane z wojnami XVII w.:

A) *Sicz Zaporoska* - .....

.....

.....

B) *Kozacy rejestrowi* – .....

.....

.....

**Zadanie 4 (0-3p.)**

Dopisz państwo z jakim Rzeczpospolita zawarła rozejm lub pokój w czasie wojen siedemnastowiecznych.

| pokój w Oliwie | rozejm w Andruszowie | pokój w Karłowicach |
|----------------|----------------------|---------------------|
|                |                      |                     |

**Zadanie 5 (0-6p.)**

Oblicz, ile lat minęło...? (zapisz w formie działania)

- a) od śmierci hetmana Stanisława Żółkiewskiego do obrony klasztoru na Jasnej Górze podczas *potopu szwedzkiego*?

- b) od obrony Chocimia przez hetmana Jana K. Chodkiewicza do bitwy pod Chocimiem, stoczonej przez Jana Sobieskiego?

- c) od obrony Kamieńca Podolskiego do odsieczy wiedeńskiej?

**Zadanie 6 (0-3p.)**

Wykonaj polecenia

- A. Napisz, jakim pokojem zakończyła się wojna trzydziestoletnia.

.....

- B. Podaj dwa postanowienia tego pokoju.

- .....

.....

- .....

**Zadanie 7 (0-1p.)**

**Uporządkuj chronologicznie wydarzenia związane z wojną północną (1700-1721 r.) wpisując cyfry od 1 do 4.**

- A) pokój w Nystad .....
- B) bitwa pod Połtawą .....
- C) przystąpienie Rzeczypospolitej do wojny .....
- D) detronizacja Augusta II .....

**Zadanie 8 (0-3p.)**

**Wykonaj polecenia związane z Traktatem Trzech Czarnych Orłów.**



[www.jhdwodz.blogspot.com/](http://www.jhdwodz.blogspot.com/)

**A) Wymień państwa, które podpisały traktat.**

.....  
.....

**B) Napisz, w którym roku podpisano traktat.**

.....

**C) Wymień najważniejsze postanowienie tego traktatu.**

.....  
.....  
.....

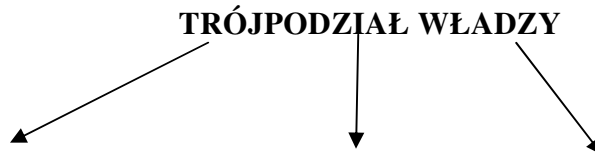
**Zadanie 9 (0-3p.)**

Wykonaj polecenia związane z zasadą *trójpodziału władzy*.

A) Napisz, kogo uznaje się za twórcę zasady *trójpodziału władzy*.

.....

B) Uzupełnij schemat *trójpodziału władzy*.




.....

C) Napisz, który dokument w Rzeczypospolitej wprowadził zasadę *trójpodziału władzy*.

.....

**Zadanie 10 (0-3p.)**

Zapoznaj się z ilustracją i wykonaj polecenia.



A) Napisz, która z postaci A, B lub C symbolizuje stan trzeci w przedrewolucyjnej Francji.

.....

B) Jakie grupy społeczne tworzyły tzw. stan trzeci?

.....

C) Do hasła *wolność* dopisz pozostałe hasła *rewolucji francuskiej*.

*wolność* .....

**Zadanie 11 (0-3p.)**

Dopisz wydarzenia do dat związanych z historią Stanów Zjednoczonych Ameryki Północnej.

A) 4 lipca 1776 r. - .....

.....

B) 1787 r. - .....

.....

C) 1861 r.- .....

.....

**Zadanie 12 (0-3p.)**

Wyjaśnij pojęcia związane z historią Stanów Zjednoczonych Ameryki Północnej.

A) *abolicjonizm* - .....

.....

B) *Konfederaci* - .....

.....

C) *wojna secesyjna* - .....

.....

**Zadanie 13 (0-1p)**

Podkreśl postaci, które brały udział w *obiadach czwartkowych*.

*Wojciech Bogusławski*

*Stanisław Konarski*

*Stefan Czarniecki*

*Joachim Lelewel*



*Romuald Traugutt*

*Ignacy Krasicki*

*Adam Mickiewicz*

*Stanisław Małachowski*

**Zadanie 14 (0-5p.)**

**Wykonaj polecenia związane z Sejmem Wielkim.**

**A) Podaj dwa postanowienia Sejmu Wielkiego, które zostały ustanowione przed uchwaleniem Konstytucji 3 Maja.**

- .....

.....

- .....

.....

**B) Wymień dwa postanowienia Konstytucji 3 Maja związane z zasadą *trójpodziału władzy*.**

- .....

.....

.....

- .....

.....

.....

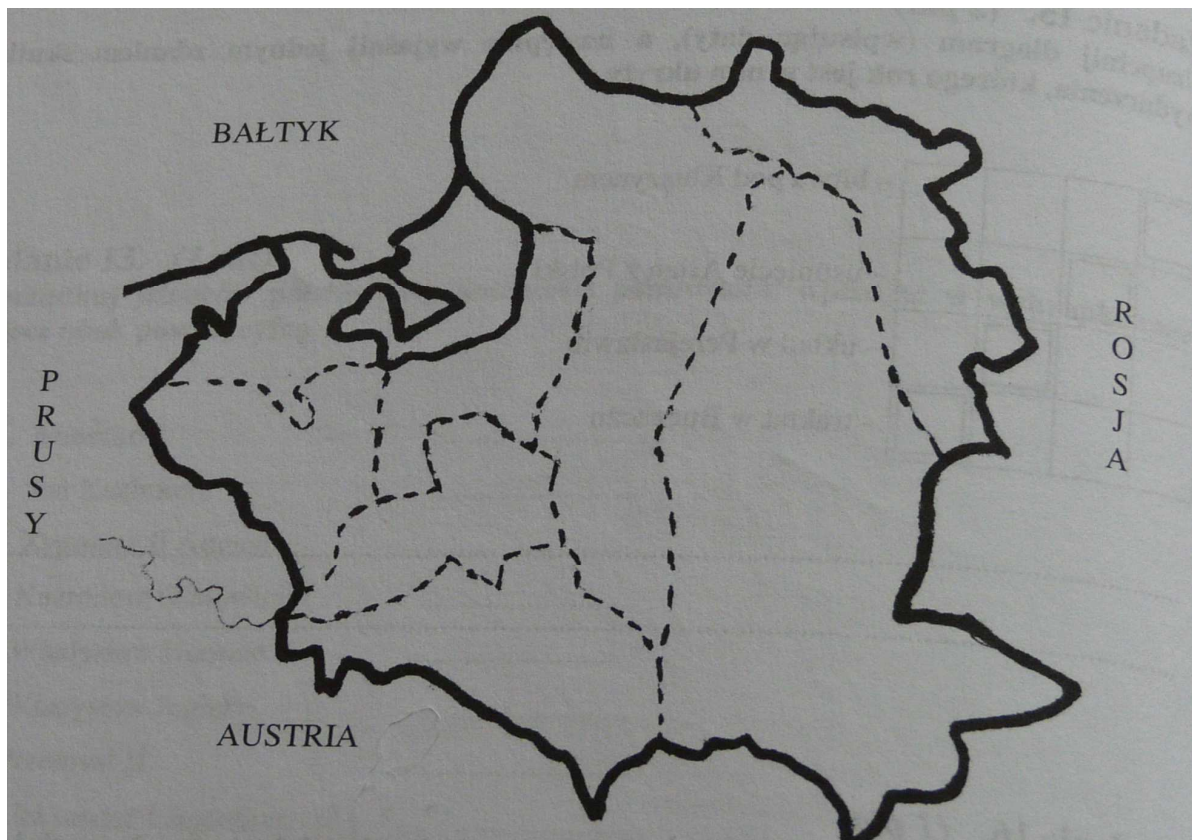
**C) Podaj państwo europejskie, w którym uchwalono konstytucję, w tym samym roku, co Konstytucję 3 Maja.**

.....

**Zadanie 15 (0-3p.)**

**Wykonaj polecenia związane z rozbiórami Rzeczypospolitej.**

**A. Na mapie zaznacz literą A I rozbiór rosyjski a literą B III austriacki**



**B. Napisz, w którym rozbiorze i na rzecz jakiego państwa Rzeczpospolita utraciła Gdańsk.**

.....

**C. Napisz, pod czym zaborem znalazła się Warszawa po III rozbiorze.**

.....

**Zadanie 16 (0-4p.)**

**Uzupełnij tekst związany z powstaniem kościuszkowskim.**

*24 marca 1794 r. na rynku w ..... Tadeusz Kościuszko ogłosił się .....*

*Przywódcą insurekcji w Warszawie został szewc (imię i nazwisko) .....  
....., natomiast w Wilnie poeta (imię i nazwisko) .....*

.....



**Zadanie 17 (0-1p.)**

Ułóż chronologicznie formy państwa francuskiego na przełomie XVIII / XIXw.

- A) republika
- B) monarchia konstytucyjna
- C) cesarstwo
- D) monarchia absolutna

| 1 | 2 | 3 | 4 |
|---|---|---|---|
|   |   |   |   |

**Zadanie 18 (0-4p.)**

- A) Wymień postaci historyczne występujące w polskim hymnie. Przy każdej postaci dopisz właściwy fragment hymnu.

| POSTAĆ HISTORYCZNA | WŁAŚCIWY FRAGMENT HYMNU |
|--------------------|-------------------------|
|                    |                         |
|                    |                         |
|                    |                         |

- B) Napisz, w którym roku i w jakiej miejscowości powstała *Pieśń Legionów Polskich we Włoszech*.

.....

**Zadanie 19 (0-3p.)**

Uzupełnij tabelę *Bitwy Napoleona*.

| <b>MIEJSCE BITWY</b> | <b>PAŃSTWO</b> | <b>DATA ROCZNA</b> |
|----------------------|----------------|--------------------|
| <b>Somosierra</b>    |                | <b>1808</b>        |
|                      | <b>Prusy</b>   | <b>1806</b>        |
| <b>Borodino</b>      | <b>Rosja</b>   |                    |

**Zadanie 20 (0-1p.)**

Spośród dowódców powstańczych podkreśl tych, którzy nosili tytuł dyktatora:

*Tadeusz Kościuszko,                      Józef Chłopicki,                      Józef Sowiński,*

*Romuald Traugutt,                      Józef Bem*

**Zadanie 21 (0-2p.)**

Wpisz postaci i pojęcia do odpowiedniego powstania

A) Józef Bem,

B) ks. Brzóska,

C) Szkoła  
Podchorążych,

D) oddziały partyzanckie,

E) branka,

F) bitwa pod  
Ostrołęką,

G) carskie uwłaszczenie,

H) regularne wojsko,

I) książę Konstanty

**POWSTANIE LISTOPADOWE**

**POWSTANIE STYCZNIOWE**

**Zadanie 22 (0-3p.)**

Do podanych nazwisk dopisz nazwę miasta związanego z ich działalnością gospodarczą:

Izrael Poznański - .....

Hipolit Cegielski - .....

Leopold Kronenberg - .....

**Zadanie 23 (0-4p.)**

Uzupełnij tabelę *Wynalazki przelomu XIX / XX w.*

| NAZWISKO WYNAŁAZCY              | WYNAŁAZEK |
|---------------------------------|-----------|
|                                 | Telefon   |
| Karl F. Benz i Gottlieb Daimler |           |
| Bracia Lumiere                  |           |
|                                 | Samolot   |

**Zadanie 24 (0-1p.)**

Spośród podanych ram czasowych wybierz właściwą dla czasów *La Belle Epoque*:

- A) 1871 – 1914
- B) 1848 – 1871
- C) 1789 – 1815
- D) 1815 – 1848

**Zadanie 25 (0-1p.)**

Jeden z paktów polityczno-wojskowych przelomu wieków został nazwany *entente cordiale*. Było to:

- A) Trójporozumienie
- B) Trójprzymierze
- C) Trójpodział

**Zadanie 26 (0-2p)**

Napisz, do którego państwa należały Alzacja i Lotaryngia w:

A) w 1869 r. –

.....

B) w 1873 r. -

.....

**Zadanie 27 (0-3p.)**

Wykonaj polecenia związane z wojnami bałkańskimi

A) Spośród podanych państw podkreśl co najmniej dwa, które nie brały udziału w wojnach bałkańskich.

Bułgaria, Rumunia, Francja, Serbia, Albania,

Imperium Osmańskie, Grecja, Włochy, Czarnogóra, Rosja

B) Napisz, przeciwko któremu państwu zawarto koalicję w I wojnie bałkańskiej.

.....

C) Napisz, przeciwko któremu państwu zawarto koalicję w II wojnie bałkańskiej.

.....

**Zadanie 28 (0-2p.)**

Wykonaj polecenia związane z zamachem w Sarajewie.

A) Podaj datę dzienną (dzień-miesiąc-rok) zamachu w Sarajewie.

.....

B) Napisz, kto zginął w wyniku zamachu w Sarajewie.

.....

**Zadanie 29 (0-3)**

Dopasuj dowódców do polskich formacji wojskowych.

|                               |                       |                           |
|-------------------------------|-----------------------|---------------------------|
| <i>Józef Piłsudski,</i>       | <i>Józef Haller,</i>  | <i>Ignacy Prądzyński,</i> |
| <i>Józef Dowbor-Muśnicki,</i> | <i>Józef Zajaczek</i> |                           |

I Kompania Kadrowa - .....

I Brygada Legionów Polskich - .....

Błękitna Armia - .....

**Zadanie 30 (0-3p.)**

**Podpisz portrety znanych postaci historycznych związanych z I wojną światową.**



[www.wikipedia.pl](http://www.wikipedia.pl)

---



[www.wikipedia.pl](http://www.wikipedia.pl)

---